

重点卷（四）

(时间:60分钟 满分:100分)

题号	一	二	三	四	五	六	七	附加题	总分
得分									

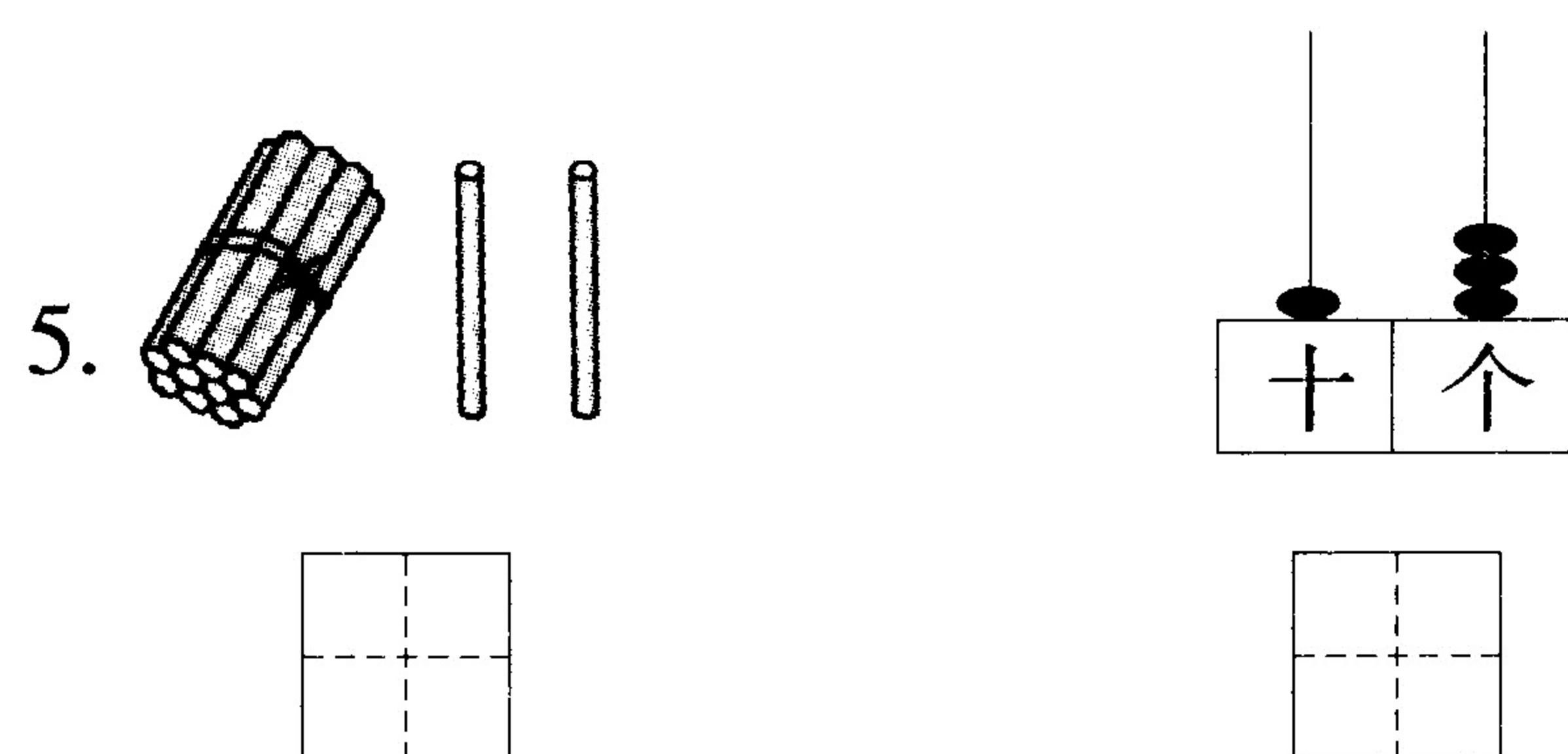
一、填空。(24分)

- 一个加数是7,另一个加数是5,和是()。
- 17里面有()个十,7个()。
- 5时过3小时是()时,钟面上短针是()针。

4.

	15			12	
--	----	--	--	----	--

	1				5
--	---	--	--	--	---



6. 在□里填上合适的数。

$$\begin{array}{c} 7 + 8 = \square \\ \begin{array}{cc} \square & \square \\ \hline 10 \end{array} \end{array}$$

$$\begin{array}{c} 9 + 3 = \square \\ \begin{array}{cc} \square & \square \\ \hline 10 \end{array} \end{array}$$

$$\begin{array}{c} 7 + 4 = \square \\ \begin{array}{cc} \square & \square \\ \hline 10 \end{array} \end{array}$$

二、判断。(10分)

- 比12大3的数是9。()

2. $8-2$ 的得数与 $2+4$ 的得数相同。 ()
3. 最大的一位数是 9，最小的两位数是 11。 ()
4. 既可以站稳又可以滚动的物体是球。 ()
5. 5 比 19 少 4。 ()

三、计算。(21 分)

1. 直接写得数。(12 分)

$3+6=$	$8+8=$	$0+4=$	$7+3=$
$7-0=$	$5-5=$	$4+10=$	$9-8=$
$11+3+4=$	$14-4+4=$	$15-3-10=$	$7+9-6=$

2. 在括号里填上合适的数。(9 分)

$8+(\quad)=13$	$9-(\quad)=7$	$13-(\quad)=10$
$8+(\quad)=8$	$15+(\quad)=16$	$9+(\quad)=3+7$
$18+(\quad)=19+0$	$15-3+(\quad)=17$	$19-(\quad)-7=10$

四、在○里填上“>” “<” 或“=”。(18 分)

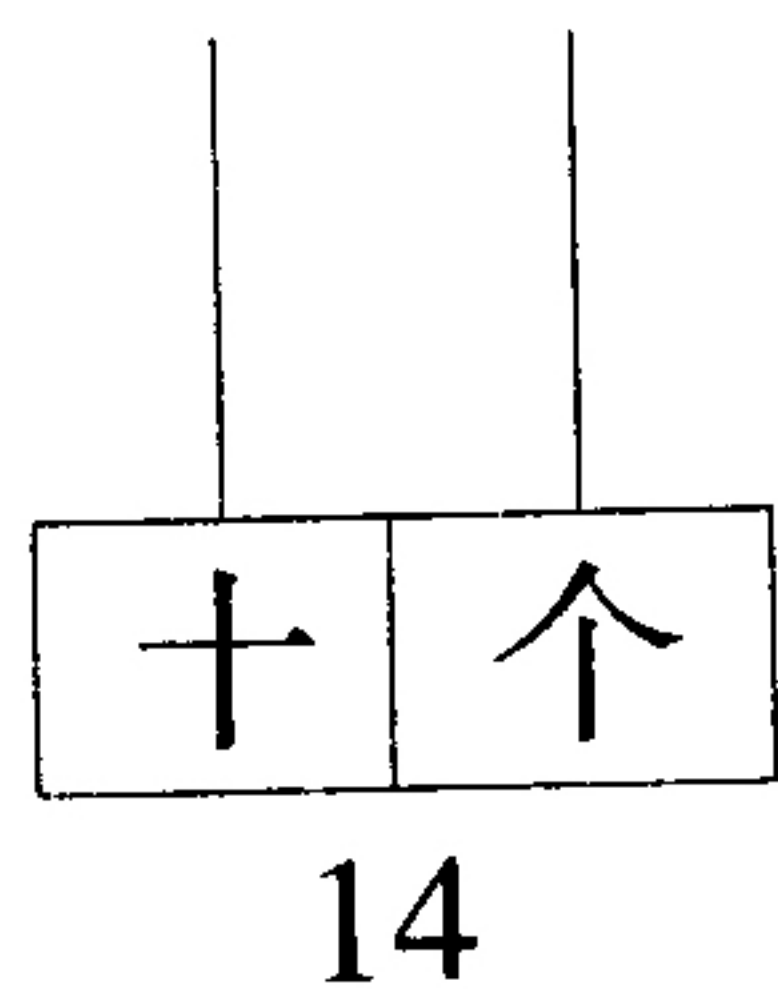
$18 \bigcirc 19$	$16 \bigcirc 9+7$	$6+8 \bigcirc 18-5$
$13 \bigcirc 12+2$	$14-3 \bigcirc 10$	$12-0 \bigcirc 0+12$
$8+11 \bigcirc 20$	$7+6 \bigcirc 15-1$	$7 \bigcirc 13-4$

五、数一数，填一填，画一画。(9分)

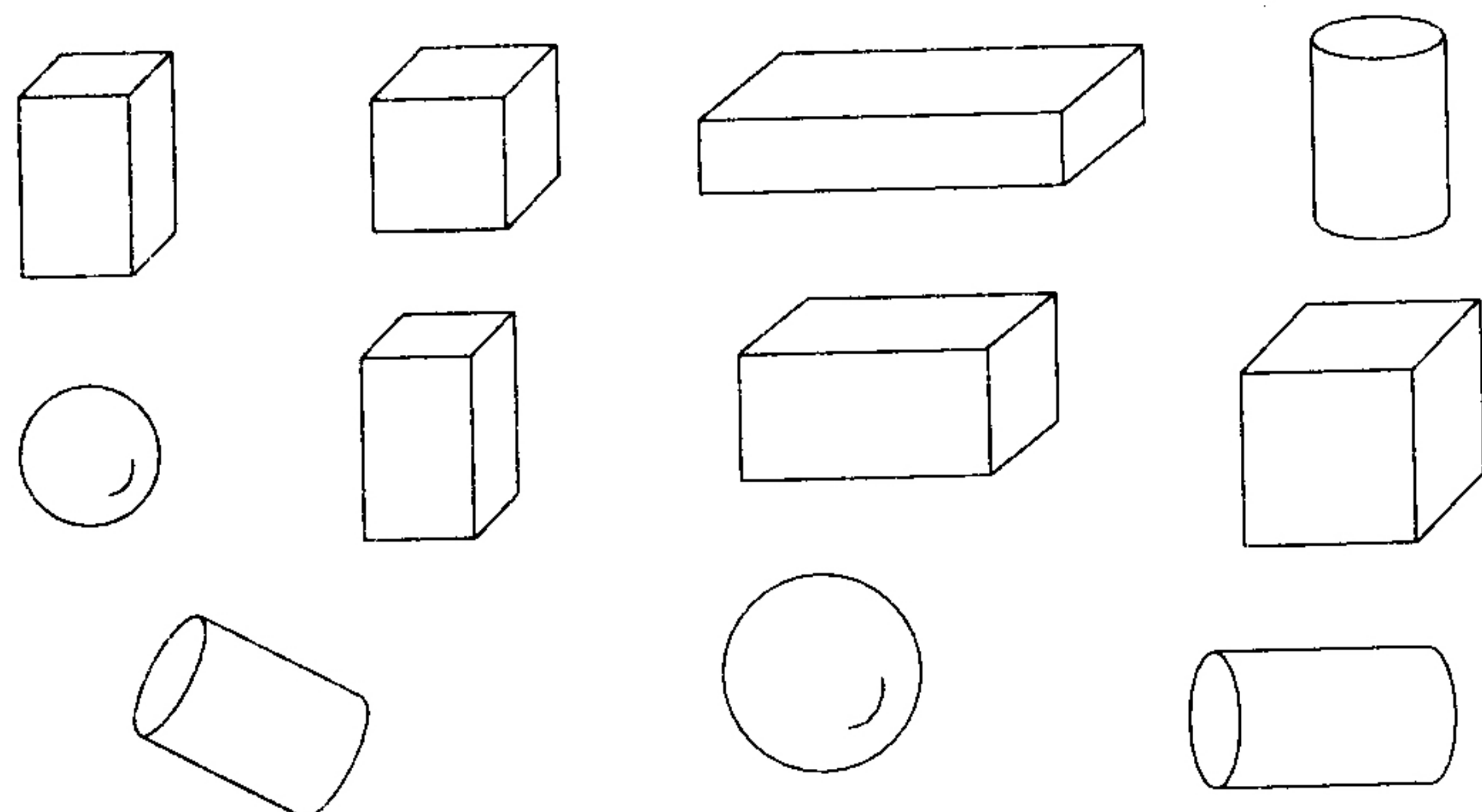
1. 画△，与○同样多。

○○○○○

2. 画珠子。



3.



一共有 () 个图形

正方体有 () 个

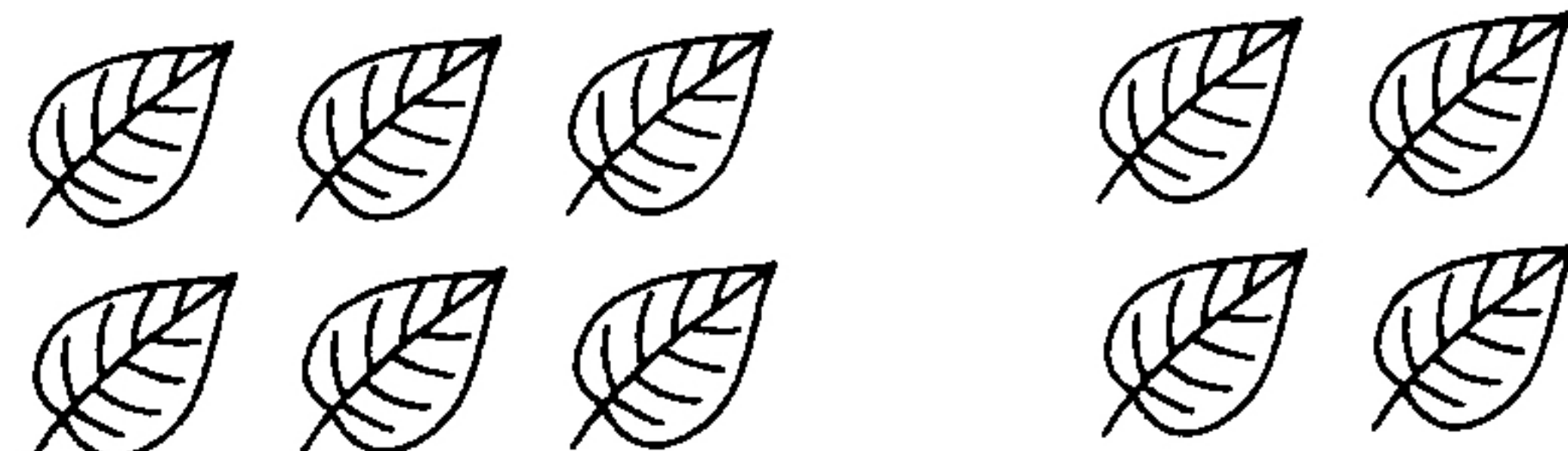
圆柱有 () 个

长方体有 () 个

球有 () 个

六、看图列式计算。(8分)

1.

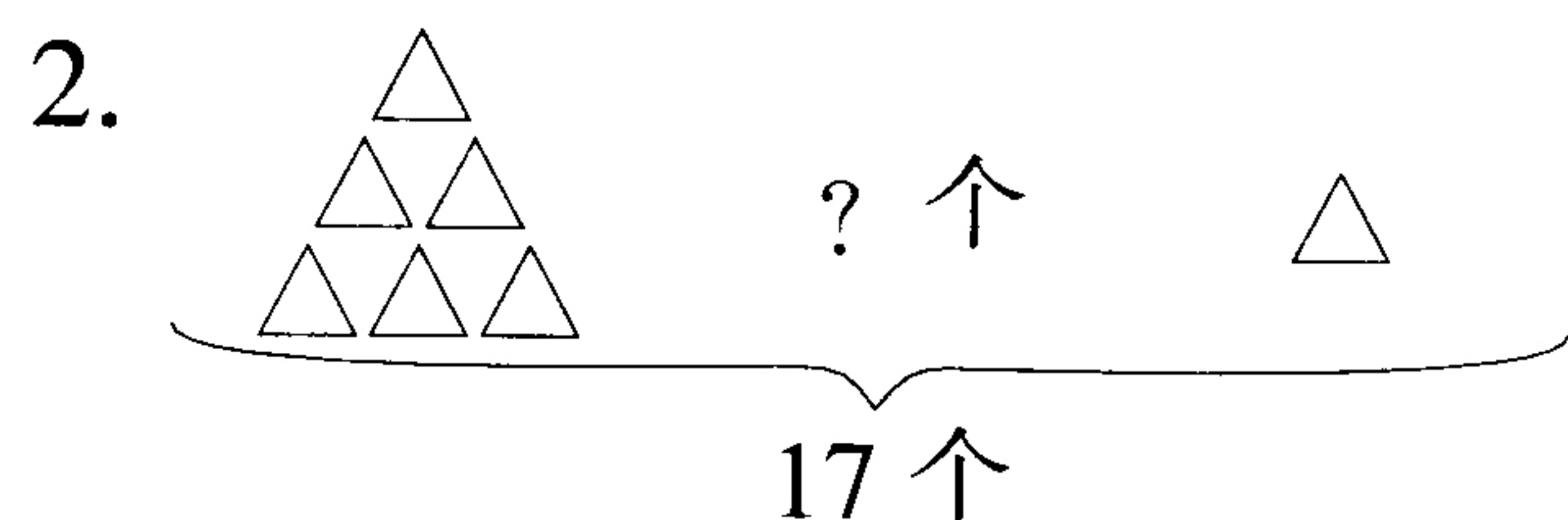


$$\square + \square = \square$$

$$\square + \square = \square$$

$$\square - \square = \square$$

$$\square - \square = \square$$



$$\square \bigcirc \square \bigcirc \square = \square \text{ (个)}$$

七、解决问题。(10 分)

1. 书架上有 13 本书，借走了 3 本，又还来了 7 本，现在书架上有多少本书？

弥

2. 小猫第一天钓了 5 条鱼，第二天上午钓了 3 条，下午钓了 4 条。请问小猫两天一共钓了多少条鱼？

封

附加题。

黑兔、灰兔和白兔三只兔子赛跑，黑兔说：“我跑得不是最快的，但比白兔快。”请你分析，谁跑得最快，谁跑得最慢？

线